

Informace o přijímacích zkouškách podle studijních programů

TEST A

Filozofická fakulta Ostravské univerzity – katedra historie

Přijímací test z historie, 2022

Jméno a příjmení:

Studijní kombinace: Výsledný počet bodů:

„Svým podpisem stvrzuji, že jsem seznámen(a) s Podmínkami pro přijetí ke studiu v bakalářských a magisterských studijních programech pro akademický rok 2022/2023 a že se seznámím s výsledky přijímacího řízení na internetových stránkách Ostravské univerzity. Svým podpisem rovněž stvrzuji, že jsem způsobilý(á) konat písemný test.“

Datum: Podpis:

1. Přečtěte si text a odpovězte na otázky

(za správnou odpověď 1 bod, celkem 3 body)

„Pane předsedo vlády,

...oznámil jsem Vám svůj definitivní úmysl resignovati na presidentskou funkci. Prodiskutovali jsme tehdy toto mé rozhodnutí v souvislosti s problémy celkové politické situace; sdělil jsem Vám též, že také lékaři mi doporučují, abych vzal ohled na svůj dnešní zdravotní stav. Odvolává se na tento náš rozhovor, prosím Vás, abyste oznámil Národnímu shromáždění mé rozhodnutí a požádal je, aby vzalo laskavě na vědomí moji resignaci na odpovědný úřad, jímž mne jednomyslnou volbou dne ... poctilo. Děkuji mu za jeho důvěru, děkuji za důvěru a lásku lidu, která mi byla vždy nesmírnou posilou a kterou jsem se snažil nezklamat.“

a) Kdo je autorem prohlášení?

- Jan Masaryk Edvard Beneš Prokop Drtina

b) Kdo nahradil ve funkci autora tohoto textu?

- Klement Gottwald Jan Šrámek Vlado Clementis

c) Která událost vedla k tomuto definitivního rozhodnutí.

- Osvobození ČSR Vítězný únor Nesouhlas s květnovou ústavou

2. Křížkem označte správný pojem

(za správné zakroužkování 1 bod, celkem 4 body)

Jak se označoval dobrovolník ve španělské občanské válce?

- interbrigadista žoldněř legionář conquistador

Které z těchto děl napsal Jan Ámos Komenský?

- Historie církevní Filipika proti misomusům
 O státně českém Svět v obrazech

Jak se nazývalo politické seskupení radikální inteligence spojované s obdobím teroru za velké francouzské revoluce?

- girondisté royalisté jakobíni komunardi

Jak se označuje rozkol v církvi způsobený současnou existencí dvou i tří papežů?

- interregnum schizma konkláve episkopát

3. Určete správný pojem dle popisu

(za každou správnou odpověď 1 bod, celkem 5 bodů)

a) Umělecký směr převládající v období vlády Karla IV.

..... **gotika**

b) Církevní trest spočívající ve vyloučení postiženého z účasti na bohoslužbách, svátostech a na církevním životě vůbec.

..... **klatba**

c) Soubor nařízení, která byla vydána během a těsně po ukončení 2. sv. války pro potřebu poválečného vypořádání v Československu.

..... **Benešovy, prezidentské dekrety**

d) Bojkot anglického zboží obyvateli amerických kolonií převlečených za Indiány v roce 1773.

..... **Bostonské pití čaje**

e) Pomocná věda historická, která se zabývá platidly.

..... **Numismatika**

4. Přiřaďte správné datum k události

(za správné přiřazení 1 bod, celkem 10 bodů)

40 př. n. l., 44 př. n. l., 313, 476, 1212, 1278, 1415, 1416, 1434, 1436, 1453, 1526, 1781, 1848, 1866, 1871, 1942, 1944, 1953, 1956

Smrt Klementa Gottwalda	1953	Vydání tolerančního patentu	1781
Bitva u Lipan	1434	Zánik západorímské říše	476
Vznik Německé říše	1871	Atentát na Reinharda Heydricha	1942
Vydání Zlaté buly sicilské	1212	Vražda Julia Caesara	44 př. n.l.
Bitva u Moháče	1526	Upálení Jana Husa	1415

5. Utvořte správné dvojice

(za správné utvoření 1 bod, celkem 5 bodů)

- | | |
|-----------------------|-----------------------------|
| a) Vincent van Gogh | 1. vynálezce |
| b) Thomas Alva Edison | 2. církevní reformátor |
| c) Vavřinec z Březové | 3. československý prezident |
| d) Antonín Novotný | 4. vojevůdce a politik |
| e) David Lloyd George | 5. malíř |
| | 6. britský premiér |
| | 7. husitský kronikář |

Do závorek vepište správné řešení, např. a (1):

a (5), b (1), c (7), d (3), e (6)

6. Poznejte osobnost podle uvedených indicií a označte ji křížkem

(za správnou odpověď 1 bod, celkem 5 bodů)

Říman – 43 př. n. l. až asi 18 n. l. – básník – Umění milovat

Seneca

Ovidius

Vergilius

hudební skladatel – 19. století – hluchota – Litomyšl

Bedřich Smetana

Leoš Janáček

Bohuslav Martinů

Ital z Janova – 15. a 16. století – objevitel – mořeplavec

Kryštof Kolumbus

Marco Polo

Vasco da Gama

generál – 1968 – prezident – Buzuluk

Gustav Husák

Antonín Novotný

Ludvík Svoboda

šlechtic – 14. století – Karel IV. – první arcibiskup pražský

Jan Očko z Vlašimi

Arnošt z Pardubic

Tobiáš z Bechyně

7. Podtrhněte, co do uvedené řady nepatří a vysvětlete proč

(za správně podtržený údaj 1 bod, za správné vysvětlení 1 bod, celkem 10 bodů)

bitva u Desavy (Dessau)

bitva na Bílé hoře

bitva u Waterloo

bitva u Jankova

bitva u Lützenu

Bitva u Waterloo se neodehrála během 30. leté války.

Václav IV.

Vratislav I.

Václav II.

Přemysl Otakar II.

Václav III.

Václav IV. nebyl králem z rodu Přemyslovců.

Obrana národa

Komunistický odboj

Maffie

Politické ústředí

Petiční výbor „Věrní zůstaneme“

Maffie nepůsobila v průběhu 2. sv. války

normalizace

Únorový převrat

Charta 77

vznik ČSR

Pražské jaro

Vznik ČSR nesouvisí s událostmi období komunismu

- Říše Chetitů Franská říše Perská říše
 Římská říše Makedonská říše

Franská říše není starověkou říší.

8. Mohly se uvedené osobnosti teoreticky za svého života potkat? Zaškrtněte správnou odpověď

(za správnou odpověď 1 bod, celkem 5 bodů)

	ANO	NE
Jan Hus – Martin Luther		NE
Ludvík Jagelonský – Dante Alighieri		NE
Stalin – Francisco Franco	ANO	
František Palacký – Jan Masaryk		NE
Napoleon III. – královna Viktorie	ANO	

9. Přiřaďte následující pojmy, místa a postavy k území současných států. Označte správnou odpověď

(za správné zařazení 1 bod, celkem 5 bodů)

Konstantinopol	Řecko	Turecko	Itálie
Albrecht Dürer	Rakousko	Švýcarsko	Německo
Konfucius	Čína	Japonsko	Vietnam
první test atomové bomby	USA	Rusko	Francie
Sixtinská kaple	Itálie	Vatikán	Španělsko

10. K uvedeným výrokům přiřaďte autora

(za správnou odpověď 1 bod, celkem 5 bodů)

- a) „Pravda a láska musí zvítězit nad lží a nenávistí.“ (Václav Havel)
- b) „A přece se točí.“ (Galileo Galilei)
- c) „Přišel jsem, viděl jsem, zvítězil jsem.“ (Gaius Julius Caesar)
- d) „Ora et labora.“ („Modli se a pracuj“) (sv. Benedikt)
- e) „Kdo nejde s námi, jde proti nám.“ (Klement Gottwald)

Marcus Aurelius, František z Assisi, Klement Gottwald, Mikuláš Koperník, Václav Havel, J. V. Stalin, Galileo Galilei, Tomáš Garrigue Masaryk, sv. Benedikt, Julius Caesar

11. Prohlédni si obrázky a odpověz na otázky.

(za každou správnou odpověď 1 bod, celkem 9 bodů)

A) Napište název stavby, ve kterém městě se nachází a v jakém slohu byla postavena



Národní divadlo; Praha; historismus/neorenesance/novorenesance

B) Napište název uměleckého směru, do něhož se malba řadí, a uveďte dva jeho představitele



Renesance; Leonardo da Vinci, Sandro Botticelli, Rafael Santi, Michelangelo Buonaroti...

C) Napište název architektonického stylu a jeho dva typické znaky



Románský sloh, silné mohutné zdi, podpěrné sloupky, portály, fresky, sdružená okna

12. Prohlédněte si obrázky a odpovězte na otázky

(každá správná odpověď 1 bod, celkem 4 body)



- a) Jak nazýváme vojska, která bojovala v cizině za vznik Československa?
Československé legie
- b) Ve kterých zemích tito vojáci bojovali?
Rusko, Francie, Itálie
- c) Co je znázorněno na přiložené mapě?
Sibiřská anabáze / obsazení Transsibiřské magistrály
- d) Jakou roli sehrála města Čeljabinsk a Vladivostok?
Čeljabinsk **střet legionářských vojsk s bolševiky (počátek anabáze)**
Vladivostok **přístav, ze kterého poté legionáři vyplouvali domů**

13. Přiřaďte k jednotlivým osobnostem jejich pole působnosti. Správné odpovědi vepište do tabulky

(za správné přiřazení 1 bod, celkem 5 bodů)

1. Ferdinand Peroutka A. politika
2. Karel Kramář B. sochařství
3. Benedikt Ried C. architektura
4. Erwin Rommel D. žurnalistika
5. Feidiás E. vojenství
- F. malířství
- G. sport

1.	2.	3.	4.	5.
D	A	C	E	B

**14. Určete, zda jsou události v časové řadě řazeny chronologicky od nejstarší po nejmladší.
Zakřížkujte správnou odpověď**

(za správnou odpověď 1 bod, celkem 5 bodů)

Napadení Polska – Anšlus – Mnichovská dohoda – bitva o Británii – vylodění v Normandii

ANO NE 1939, březen 1938, září 1938, 1940, 1944

Husitské války – zveřejnění Lutherových tezí – Česká konfese – Rudolfův majestát – třetí pražská defenestrace

ANO NE 1419–1434, 1517, 1575, 1609, 1618

Versailleská mírová konference – pochod na Řím – vypuknutí Velké hospodářské krize – Adolf Hitler kancléřem – smrt T. G. Masaryka

ANO NE 1919, 1922, 1929, 1933, 1937

Karibská krize – Maďarské povstání – Pražské jaro – Sametová revoluce – rozpad SSSR

ANO NE 1962, 1956, 1968, 1989, 1991

Edikt milánský – rozdělení Římské říše – bitva na Katalaunských polích – zánik Západořímské říše – vláda císaře Justiniána

ANO NE 313, 395, 451, 476 (480), 527–565

15. Ke každému portrétu přiřaďte správné jméno osobnosti. Odpovědi vybírejte z možností a zapisujte do tabulky

(za správnou odpověď 1 bod, celkem 6 bodů)




A




B



C



D



E



F

A	Margaret Thatcherová	D	Leonid Iljič Brežněv
B	Jiří z Poděbrad	E	Abraham Lincoln
C	Lída Baarová	F	Jan Amos Komenský

Možnosti: Madeleine Albrightová, Abraham Lincoln, Martin Luther, Lída Baarová, Nikita Sergejevič Chruščov, Stella Zázvorková, Margaret Thatcherová, Matyáš Korvín, Leonid Iljič Brežněv, Jan Amos Komenský, Jiří z Poděbrad, George Washington

16. Prohlédněte si karikaturu a odpovzte na otázky

(za každou správnou odpověď 1 bod, celkem 4 body)



1) K jaké události se tato karikatura váže?

- Vídeňský kongres Těšínský mír Mír v Campo Formio

2) Po jakém velkém konfliktu se tato událost odehrála?

- Napoleonské války Války o rakouské dědictví Prusko-francouzská válka

3) V rozmezí kterých let se tato událost odehrála?

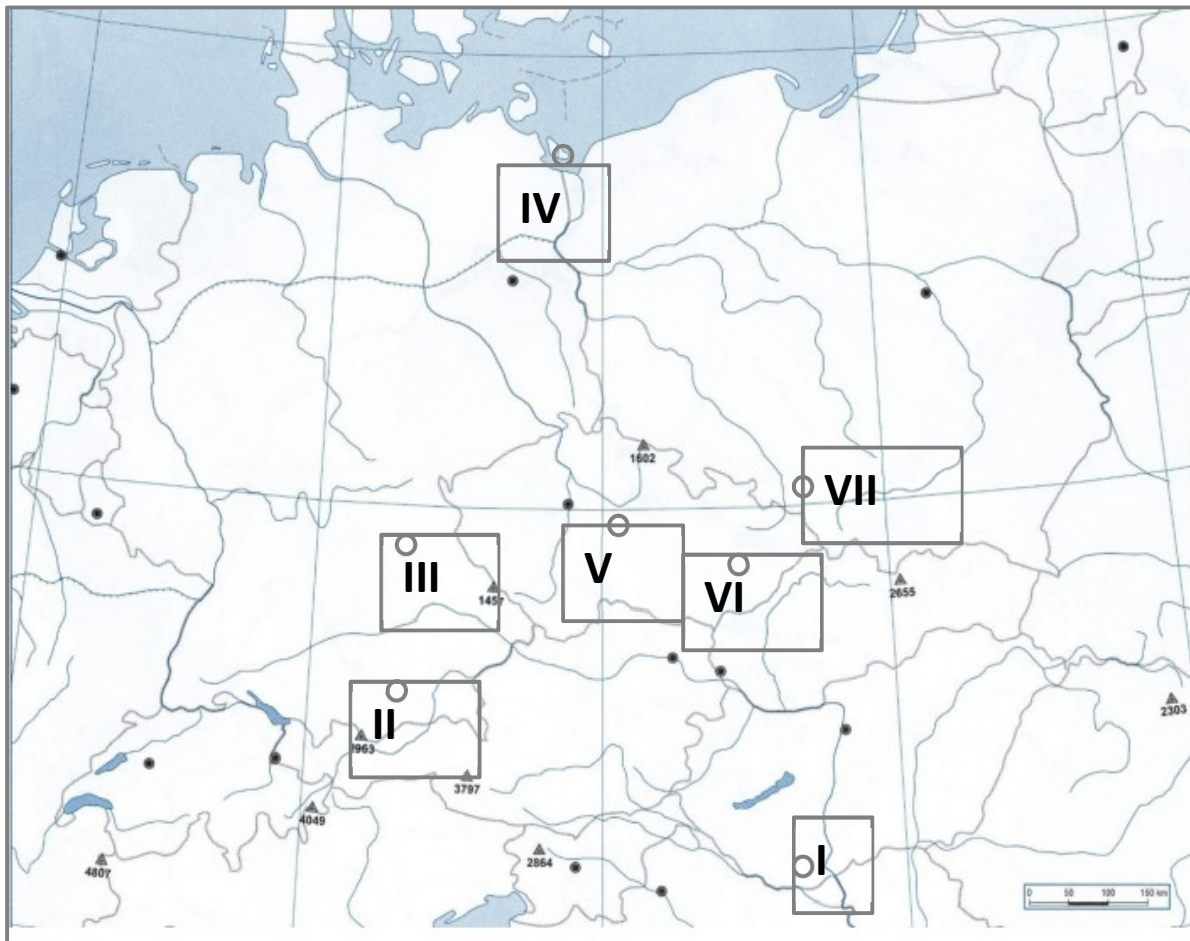
- 1740–1742 1814–1815 1848–1849

4) Vyjmenujte alespoň tři země, jejíž zástupci se této události zúčastnili.

Rusko, VB, Rakousko, Prusko, Francie

17. Prohlédněte si následující obrázky. Uveďte, jakou lokalitu označují, a určete jejich číslo na slepé mapě.

(každá správná odpověď 1 bod, celkem 10 bodů)



1. Královské město s těžbou stříbra, kde byl roku 1409 vydán dekret, zvýhodňující české hlasy na pražské univerzitě.

Číslo na mapě: ____ (V)

Znojmo

Kutná Hora

Jáchymov

2. Město, v jehož blízkosti se vedla bitva, v níž zahynul poslední český panovník z rodu Jagellonců.

Číslo na mapě: ____ (I)

Moháč

Budín

Vídeň

3. Město na Hané s rezidencí a mincovnou olomouckých biskupů. Chráněno v seznamu UNESCO. Na podzim 1848 se sem z Vídně přestěhoval říšský sněm.

Číslo na mapě: ____ (VI)

Brno

Olomouc

Kroměříž

4. Město, podle něhož jsou pojmenovány rasové zákony vydané v nacistické říši.

Číslo na mapě: ____ (III)

Berlín

Norimberk

Mnichov

5. Město, kde Němci zinscenovali útok na radiovou věž, aby získali záminku k napadení Polska.

Číslo na mapě: ____ (VII)

Gliwice

Katowice

Zabrze

1) B0222A120013, Historie

Historie

Forma přijímací zkoušky: písemná

2) B0222A120013, Historie

Historie-Anglický jazyk

Historie-Anglický jazyk pro vzdělávání

Historie –Český jazyk a literatura

Historie –Český jazyk a literatura pro vzdělávání

Historie –Dějiny umění

Historie –Dějiny umění pro vzdělávání

Historie-Německý jazyk

Historie –Německý jazyk a literatura pro vzdělávání

Historie –Filozofie

Historie – Sociologie

Historie – Latinský jazyk

Historie – Polský jazyk

Historie – Ruský jazyk

Historie-Ruský jazyk pro vzdělávání

Historie – Základy společenských věd pro vzdělávání

Historie-Biologie pro vzdělávání

Historie-Geografie pro vzdělávání

Historie-Matematika pro vzdělávání

Forma přijímací zkoušky: písemná

3) B0231A090058, Anglická filologie

Anglický jazyk a literatura – Historie pro vzdělávání

Forma přijímací zkoušky: písemná

4) B0232A090009, Český jazyk a literatura

Český jazyk a literatura – Historie pro vzdělávání

Forma přijímací zkoušky: písemná

5) B0213A320002, Dějiny umění

Dějiny umění - Historie

Dějiny umění – Historie pro vzdělávání

Forma přijímací zkoušky: písemná

6) B0288A100001, Základy společenských věd

Základy společenských věd – Historie pro vzdělávání

Forma přijímací zkoušky: písemná

7) B0231A090062, Německá filologie

Německý jazyk – Historie pro vzdělávání

Forma přijímací zkoušky: písemná

8) B0231A090063, Polská filologie

Polský jazyk – Historie pro vzdělávání

Forma přijímací zkoušky: písemná

9) B0231A090065, Španělská filologie

Španělský jazyk – Historie pro vzdělávání

10) B0223A100004, Filozofie

Filozofie – Historie

11) B0314A250012, Sociologie

Sociologie – Historie

Forma přijímací zkoušky: písemná

Kritéria pro vyhodnocení a postup, jakým se stanoví výsledek přijímací zkoušky nebo její části: viz výše.

1) B0222A120013, Historie

Historie

Základní statistické charakteristiky písemné přijímací zkoušky nebo její části:

Počet uchazečů, kteří se zúčastnili písemné přijímací zkoušky: 24

Nejlepší možný výsledek písemné přijímací zkoušky: 100

Nejlepší skutečně dosažený výsledek písemné přijímací zkoušky: 91

Průměrný výsledek písemné přijímací zkoušky: 68,0

Směrodatná odchylka výsledků písemné přijímací zkoušky: 15,12

Decilové hranice výsledku zkoušky:

2) B0222A120013, Historie

Historie-Anglický jazyk

Základní statistické charakteristiky písemné přijímací zkoušky nebo její části:

Počet uchazečů, kteří se zúčastnili písemné přijímací zkoušky: 8

Nejlepší možný výsledek písemné přijímací zkoušky: 100

Nejlepší skutečně dosažený výsledek písemné přijímací zkoušky: 78

Průměrný výsledek písemné přijímací zkoušky: 59,13

Směrodatná odchylka výsledků písemné přijímací zkoušky: 10,41

Decilové hranice výsledku zkoušky:

Historie-Anglický jazyk pro vzdělávání

Základní statistické charakteristiky písemné přijímací zkoušky nebo její části:

Počet uchazečů, kteří se zúčastnili písemné přijímací zkoušky: 13

Nejlepší možný výsledek písemné přijímací zkoušky: 100

Nejlepší skutečně dosažený výsledek písemné přijímací zkoušky: 90

Průměrný výsledek písemné přijímací zkoušky: 78,77

Směrodatná odchylka výsledků písemné přijímací zkoušky: 9,25

Decilové hranice výsledku zkoušky:

Historie –Český jazyk a literatura

Základní statistické charakteristiky písemné přijímací zkoušky nebo její části:

Počet uchazečů, kteří se zúčastnili písemné přijímací zkoušky: 5

Nejlepší možný výsledek písemné přijímací zkoušky: 100

Nejlepší skutečně dosažený výsledek písemné přijímací zkoušky: 86

Průměrný výsledek písemné přijímací zkoušky: 68,6

Směrodatná odchylka výsledků písemné přijímací zkoušky: 16,67

Decilové hranice výsledku zkoušky:

Historie –Český jazyk a literatura pro vzdělávání

Základní statistické charakteristiky písemné přijímací zkoušky nebo její části:

Počet uchazečů, kteří se zúčastnili písemné přijímací zkoušky: 10

Nejlepší možný výsledek písemné přijímací zkoušky: 100

Nejlepší skutečně dosažený výsledek písemné přijímací zkoušky: 96

Průměrný výsledek písemné přijímací zkoušky: 76,9

Směrodatná odchylka výsledků písemné přijímací zkoušky: 12,22

Decilové hranice výsledku zkoušky:

Historie –Dějiny umění

Základní statistické charakteristiky písemné přijímací zkoušky nebo její části:

Počet uchazečů, kteří se zúčastnili písemné přijímací zkoušky: 2

Nejlepší možný výsledek písemné přijímací zkoušky: 100

Nejlepší skutečně dosažený výsledek písemné přijímací zkoušky: 81

Průměrný výsledek písemné přijímací zkoušky: -

Směrodatná odchylka výsledků písemné přijímací zkoušky: 14,85

Decilové hranice výsledku zkoušky:

Historie –Dějiny umění pro vzdělávání

Základní statistické charakteristiky písemné přijímací zkoušky nebo její části:

Počet uchazečů, kteří se zúčastnili písemné přijímací zkoušky: 3

Nejlepší možný výsledek písemné přijímací zkoušky: 100

Nejlepší skutečně dosažený výsledek písemné přijímací zkoušky: 79

Průměrný výsledek písemné přijímací zkoušky: -

Směrodatná odchylka výsledků písemné přijímací zkoušky: 10,07

Decilové hranice výsledku zkoušky:

Historie-Německý jazyk

Základní statistické charakteristiky písemné přijímací zkoušky nebo její části:

Počet uchazečů, kteří se zúčastnili písemné přijímací zkoušky: 2

Nejlepší možný výsledek písemné přijímací zkoušky: 100

Nejlepší skutečně dosažený výsledek písemné přijímací zkoušky: 92

Průměrný výsledek písemné přijímací zkoušky: -

Směrodatná odchylka výsledků písemné přijímací zkoušky: 13,44

Decilové hranice výsledku zkoušky:

Historie-Německý jazyk a literatura pro vzdělávání

Základní statistické charakteristiky písemné přijímací zkoušky nebo její části:

Počet uchazečů, kteří se zúčastnili písemné přijímací zkoušky: 2

Nejlepší možný výsledek písemné přijímací zkoušky: 100

Nejlepší skutečně dosažený výsledek písemné přijímací zkoušky: 90

Průměrný výsledek písemné přijímací zkoušky: -

Směrodatná odchylka výsledků písemné přijímací zkoušky: 12,02

Decilové hranice výsledku zkoušky:

Historie-Filozofie

Základní statistické charakteristiky písemné přijímací zkoušky nebo její části:

Počet uchazečů, kteří se zúčastnili písemné přijímací zkoušky: 2

Nejlepší možný výsledek písemné přijímací zkoušky: 100

Nejlepší skutečně dosažený výsledek písemné přijímací zkoušky: 85

Průměrný výsledek písemné přijímací zkoušky: -

Směrodatná odchylka výsledků písemné přijímací zkoušky: 20,51

Decilové hranice výsledku zkoušky:

Historie-Sociologie

Základní statistické charakteristiky písemné přijímací zkoušky nebo její části:

Počet uchazečů, kteří se zúčastnili písemné přijímací zkoušky: 4

Nejlepší možný výsledek písemné přijímací zkoušky: 100

Nejlepší skutečně dosažený výsledek písemné přijímací zkoušky: 91

Průměrný výsledek písemné přijímací zkoušky: -

Směrodatná odchylka výsledků písemné přijímací zkoušky: 15,36

Decilové hranice výsledku zkoušky:

Historie-Latinský jazyk

Základní statistické charakteristiky písemné přijímací zkoušky nebo její části:

Počet uchazečů, kteří se zúčastnili písemné přijímací zkoušky: 1

Nejlepší možný výsledek písemné přijímací zkoušky: 100

Nejlepší skutečně dosažený výsledek písemné přijímací zkoušky: 81

Průměrný výsledek písemné přijímací zkoušky: -

Směrodatná odchylka výsledků písemné přijímací zkoušky: 0,0

Decilové hranice výsledku zkoušky:

Historie-Polský jazyk

Základní statistické charakteristiky písemné přijímací zkoušky nebo její části:

Počet uchazečů, kteří se zúčastnili písemné přijímací zkoušky: 1

Nejlepší možný výsledek písemné přijímací zkoušky: 100

Nejlepší skutečně dosažený výsledek písemné přijímací zkoušky: 86

Průměrný výsledek písemné přijímací zkoušky: -

Směrodatná odchylka výsledků písemné přijímací zkoušky: 0,0

Decilové hranice výsledku zkoušky:

Historie-Ruský jazyk

Základní statistické charakteristiky písemné přijímací zkoušky nebo její části:

Počet uchazečů, kteří se zúčastnili písemné přijímací zkoušky: 1

Nejlepší možný výsledek písemné přijímací zkoušky: 100

Nejlepší skutečně dosažený výsledek písemné přijímací zkoušky: 37

Průměrný výsledek písemné přijímací zkoušky: -

Směrodatná odchylka výsledků písemné přijímací zkoušky: 0,0

Decilové hranice výsledku zkoušky:

Historie-Ruský jazyk pro vzdělávání

Základní statistické charakteristiky písemné přijímací zkoušky nebo její části:

Počet uchazečů, kteří se zúčastnili písemné přijímací zkoušky: 2

Nejlepší možný výsledek písemné přijímací zkoušky: 100

Nejlepší skutečně dosažený výsledek písemné přijímací zkoušky: 74

Průměrný výsledek písemné přijímací zkoušky: -

Směrodatná odchylka výsledků písemné přijímací zkoušky: 5,66

Decilové hranice výsledku zkoušky:

Historie-Základy společenských věd pro vzdělávání

Základní statistické charakteristiky písemné přijímací zkoušky nebo její části:

Počet uchazečů, kteří se zúčastnili písemné přijímací zkoušky: 28

Nejlepší možný výsledek písemné přijímací zkoušky: 100

Nejlepší skutečně dosažený výsledek písemné přijímací zkoušky: 92

Průměrný výsledek písemné přijímací zkoušky: 69,86

Směrodatná odchylka výsledků písemné přijímací zkoušky: 14,87

Decilové hranice výsledku zkoušky:

Historie-Biologie pro vzdělávání

Základní statistické charakteristiky písemné přijímací zkoušky nebo její části:

Počet uchazečů, kteří se zúčastnili písemné přijímací zkoušky: 0

Nejlepší možný výsledek písemné přijímací zkoušky: 100

Nejlepší skutečně dosažený výsledek písemné přijímací zkoušky: -

Průměrný výsledek písemné přijímací zkoušky: -

Směrodatná odchylka výsledků písemné přijímací zkoušky: -

Decilové hranice výsledku zkoušky:

Historie-Geografie pro vzdělávání

Základní statistické charakteristiky písemné přijímací zkoušky nebo její části:

Počet uchazečů, kteří se zúčastnili písemné přijímací zkoušky: 26

Nejlepší možný výsledek písemné přijímací zkoušky: 100

Nejlepší skutečně dosažený výsledek písemné přijímací zkoušky: 93

Průměrný výsledek písemné přijímací zkoušky: 76,35

Směrodatná odchylka výsledků písemné přijímací zkoušky: 11,86

Decilové hranice výsledku zkoušky:

Historie-Matematika pro vzdělávání

Základní statistické charakteristiky písemné přijímací zkoušky nebo její části:

Počet uchazečů, kteří se zúčastnili písemné přijímací zkoušky: 3

Nejlepší možný výsledek písemné přijímací zkoušky: 100

Nejlepší skutečně dosažený výsledek písemné přijímací zkoušky: 92

Průměrný výsledek písemné přijímací zkoušky: -

Směrodatná odchylka výsledků písemné přijímací zkoušky: 27,50

Decilové hranice výsledku zkoušky:

3) B0231A090058, Anglická filologie

Anglický jazyk a literatura – Historie pro vzdělávání

Základní statistické charakteristiky písemné přijímací zkoušky nebo její části:

Počet uchazečů, kteří se zúčastnili písemné přijímací zkoušky: 15

Nejlepší možný výsledek písemné přijímací zkoušky: 100

Nejlepší skutečně dosažený výsledek písemné přijímací zkoušky: 93

Průměrný výsledek písemné přijímací zkoušky: 74,27

Směrodatná odchylka výsledků písemné přijímací zkoušky: 14,07

Decilové hranice výsledku zkoušky:

4) B0232A090009, Český jazyk a literatura

Český jazyk a literatura – Historie pro vzdělávání

Základní statistické charakteristiky písemné přijímací zkoušky nebo její části:

Počet uchazečů, kteří se zúčastnili písemné přijímací zkoušky: 13

Nejlepší možný výsledek písemné přijímací zkoušky: 100

Nejlepší skutečně dosažený výsledek písemné přijímací zkoušky: 90

Průměrný výsledek písemné přijímací zkoušky: 55,59

Směrodatná odchylka výsledků písemné přijímací zkoušky: 33,00

Decilové hranice výsledku zkoušky:

5) B0213A320002, Dějiny umění

Dějiny umění - Historie

Počet uchazečů, kteří se zúčastnili písemné přijímací zkoušky: 4

Nejlepší možný výsledek písemné přijímací zkoušky: 100

Nejlepší skutečně dosažený výsledek písemné přijímací zkoušky: 85

Průměrný výsledek písemné přijímací zkoušky: -

Směrodatná odchylka výsledků písemné přijímací zkoušky: 10,25

Decilové hranice výsledku zkoušky:

Dějiny umění – Historie pro vzdělávání

Základní statistické charakteristiky písemné přijímací zkoušky nebo její části:

Počet uchazečů, kteří se zúčastnili písemné přijímací zkoušky: 2

Nejlepší možný výsledek písemné přijímací zkoušky: 100

Nejlepší skutečně dosažený výsledek písemné přijímací zkoušky: 79

Průměrný výsledek písemné přijímací zkoušky: -

Směrodatná odchylka výsledků písemné přijímací zkoušky: 21,21

Decilové hranice výsledku zkoušky:

- 6) **B0288A100001, Základy společenských věd**
Základy společenských věd – Historie pro vzdělávání
Základní statistické charakteristiky písemné přijímací zkoušky nebo její části:
Počet uchazečů, kteří se zúčastnili písemné přijímací zkoušky: 10
Nejlepší možný výsledek písemné přijímací zkoušky: 100
Nejlepší skutečně dosažený výsledek písemné přijímací zkoušky: 91
Průměrný výsledek písemné přijímací zkoušky: 69,8
Směrodatná odchylka výsledků písemné přijímací zkoušky: 14,76
Decilové hranice výsledku zkoušky:
- 7) **B0231A090062, Německá filologie**
Německý jazyk – Historie pro vzdělávání
Základní statistické charakteristiky písemné přijímací zkoušky nebo její části:
Počet uchazečů, kteří se zúčastnili písemné přijímací zkoušky: 2
Nejlepší možný výsledek písemné přijímací zkoušky: 100
Nejlepší skutečně dosažený výsledek písemné přijímací zkoušky: 79
Průměrný výsledek písemné přijímací zkoušky: -
Směrodatná odchylka výsledků písemné přijímací zkoušky: 4,24
Decilové hranice výsledku zkoušky:
- 8) **B0231A090063, Polská filologie**
Polský jazyk – Historie pro vzdělávání
Základní statistické charakteristiky písemné přijímací zkoušky nebo její části:
Počet uchazečů, kteří se zúčastnili písemné přijímací zkoušky: 0
Nejlepší možný výsledek písemné přijímací zkoušky: 100
Nejlepší skutečně dosažený výsledek písemné přijímací zkoušky: -
Průměrný výsledek písemné přijímací zkoušky: -
Směrodatná odchylka výsledků písemné přijímací zkoušky: -
Decilové hranice výsledku zkoušky:
- 9) **B0231A090065, Španělská filologie**
Španělský jazyk – Historie pro vzdělávání
Základní statistické charakteristiky písemné přijímací zkoušky nebo její části:
Počet uchazečů, kteří se zúčastnili písemné přijímací zkoušky: 1
Nejlepší možný výsledek písemné přijímací zkoušky: 100
Nejlepší skutečně dosažený výsledek písemné přijímací zkoušky: 74
Průměrný výsledek písemné přijímací zkoušky: -
Směrodatná odchylka výsledků písemné přijímací zkoušky: 0,0
Decilové hranice výsledku zkoušky:
- 10) **B0223A100004, Filozofie**
Filozofie-Historie
Základní statistické charakteristiky písemné přijímací zkoušky nebo její části:
Počet uchazečů, kteří se zúčastnili písemné přijímací zkoušky: 3
Nejlepší možný výsledek písemné přijímací zkoušky: 100
Nejlepší skutečně dosažený výsledek písemné přijímací zkoušky: 60
Průměrný výsledek písemné přijímací zkoušky: -
Směrodatná odchylka výsledků písemné přijímací zkoušky: 1,53
Decilové hranice výsledku zkoušky:

11) B0314A250012, Sociologie

Sociologie-Historie

Základní statistické charakteristiky písemné přijímací zkoušky nebo její části:

Počet uchazečů, kteří se zúčastnili písemné přijímací zkoušky: 2

Nejlepší možný výsledek písemné přijímací zkoušky: 100

Nejlepší skutečně dosažený výsledek písemné přijímací zkoušky: 83

Průměrný výsledek písemné přijímací zkoušky: -

Směrodatná odchylka výsledků písemné přijímací zkoušky: 14,85

Decilové hranice výsledku zkoušky: